



Nombre: _____

Grado: _____ Curso _____

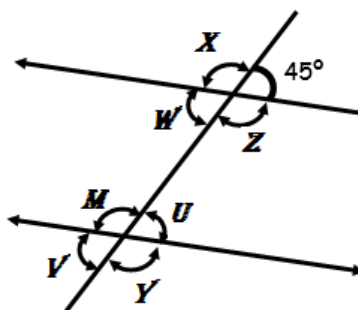
Ángulos entre rectas

Componente: geométrico y pensamiento espacial.

Indicador de logro: Reconozco cuando dos rectas son paralelas o perpendiculares y deducir el valor de los ángulos que pueden contener.

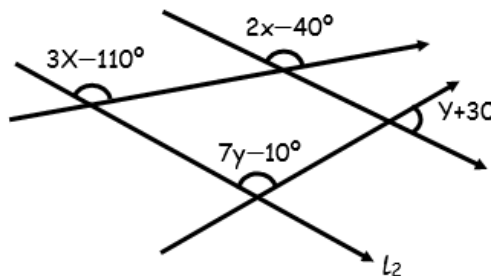
- Indica el valor de cada de cada dato faltante de la gráfica:

($L_1 // L_2$).



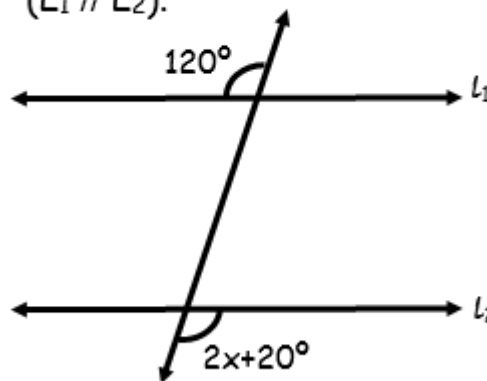
- Calcular "x + y" a partir del gráfico mostrado

($L_1 // L_2$).



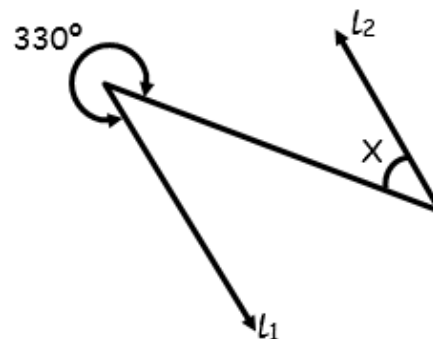
- Del gráfico mostrado, calcular el valor de "x".

($L_1 // L_2$).



- Del gráfico, calcule "x"

($L_1 // L_2$).



- Dos ángulos alternos entre paralelas miden $x+50^\circ$ y $70^\circ-y$. Calcular el complemento de $x + y$.